



ଶୁକ୍ରବାର, ୭ ଡିସେମ୍ବର, ୨୦୧୮

ସଂକ୍ଷେପରେ

ସାମାଜିକ ଗୁଣିତରେ ୨ ଶହାଡ଼

ଶ୍ରୀମନ୍ତ୍ରଣ, ୨୦୧୭ (ପି.ଟି.)- ଉତ୍କଳ-କୋଣାର୍କରେ ପାଳିତ ଗୁଣିତରେ ଅତ୍ୟଧିକ ଉତ୍ସାହ ଦେଖାଯାଇଛି। ପାଳିତ ସମୟରେ ଗୁଣିତରେ ୨ ଶହାଡ଼ ହୋଇଛି।


ରାସ୍ତାରେ ଖାଲି ଦୁର୍ଘଟଣାର କାରଣ

ରାସ୍ତାରେ ଖାଲି ଯୋଗୁଁ ଅଧିକାଂଶ ଦୁର୍ଘଟଣା ଘଟୁଛି। ଏଥିରେ ୫ ବର୍ଷରେ ୧୫,୦୦୦ ଲୋକଙ୍କର ଜୀବନ ହରାଇଛି।

୫ ବର୍ଷରେ ନେଇଛି ୧୫ ହଜାର ଜୀବନ

ଚିନ୍ତାବ୍ୟକ୍ତ କଲେ ସୁପ୍ରିମକୋର୍ଟ

- କର୍ତ୍ତୃପକ୍ଷ ରାସ୍ତା ମରାମତି କରୁନାହାନ୍ତି
ଦୁର୍ଘଟଣାରେ ପ୍ରାଣ ହରାଇଥିବା ବ୍ୟକ୍ତିଙ୍କ ପରିବାରକୁ ମିଳୁ ଯାଉଥିବା
ଜାତୀୟତାରେ ପରବର୍ତ୍ତୀ ଶୁଣାଣି




ଅଧିକାଂଶ ରାଜ୍ୟରେ ତଥା ଦାମକ ରୁପା ଓ ହେମନ୍ତ ଗୁପ୍ତାଙ୍କୁ ନେଇ ଗଠିତ ଖଣ୍ଡପୀଠ ଉଚ୍ଚ ନିଯୋଗକୁ ଅନୁଧ୍ୟାନ କରିବା ପରେ ଚିନ୍ତାବ୍ୟକ୍ତ କରିଛନ୍ତି।

ପଶ୍ଚିମବଙ୍ଗରେ ଶାହଙ୍କୁ ରଥଯାତ୍ରା ମନା

କୋଲକାତା, ୭ ଡିସେମ୍ବର (ପି.ଟି.)

ପଶ୍ଚିମବଙ୍ଗର କୁଚିହାରୀଠାରେ ଭାରତୀୟ ଅଧିକାରୀଙ୍କ ଶାହଙ୍କୁ ରଥଯାତ୍ରାକୁ ଅନୁମତି ଦେବା ଲାଗି କୋଲକାତା ହାଇକୋର୍ଟ ନିର୍ଦ୍ଦେଶ ଦେଇଛନ୍ତି।




ପଶ୍ଚିମବଙ୍ଗର ମୁଖ୍ୟମନ୍ତ୍ରୀ ଦେବୀଶ୍ୱରୀ କରଗୁପ୍ତାଙ୍କୁ ଅନୁମତି ଦେବାକୁ ମନାକରି ଦେଇଛନ୍ତି କୋଲକାତା ଉଚ୍ଚ ନିଯୋଗରେ ମୁଖ୍ୟ

ଶୁଣାଣି କରିବାକୁ ଅନୁରୋଧ କରିଥିଲେ। ତେବେ ମୁଖ୍ୟ ବିଚାରପତି ସଂସଦରେ ଶୁଣାଣି ମନା କରିଦେବା ସହ ଶୁକ୍ରବାର ସକାଳୁ ସାଢ଼େ ୧୦ଟାରେ କୋର୍ଟରେ ଅପିଲ କରିବାକୁ ଭାରତୀୟ ଅନୁମତି ଦେଇଛନ୍ତି।

ଭାରତୀୟ ଛାଡ଼ିଲେ ସାବିତ୍ରୀ ପୁଲେ

ଲକ୍ଷ୍ନୋ, ୭ ଡିସେମ୍ବର (ପି.ଟି.)



ଭାରତୀୟ ସମ୍ପଦ ସାବିତ୍ରୀ ପୁଲେ ଚଳିତ ପ୍ରାଥମିକ ସମୟ ପଦକୁ ଛାଡ଼ିଛନ୍ତି। ଏହି ଦଳ ବିଭେଦ ସୃଷ୍ଟିକାରୀ ରାଜନୀତି କରିବା ସହ ଜନସାଧାରଣଙ୍କ ବିବେଚନାରେ ସେ ଭାରତୀୟ ଛାଡ଼ିଛନ୍ତି।

ଅର୍ଥରେ ମିଶି ଓ ପ୍ରତିନିଧିତ୍ୱ ନିର୍ବାଣ କରୁଥିବା ପୁଲେ ଅଭିଯୋଗ କରିଛନ୍ତି। ଉତ୍ତରପ୍ରଦେଶ ବନ୍ଦ ପ୍ରାଥମିକ ସମୟ ପଦକୁ ଛାଡ଼ିଛନ୍ତି। ଏହି ଦଳ ବିଭେଦ ସୃଷ୍ଟିକାରୀ ରାଜନୀତି କରିବା ସହ ଜନସାଧାରଣଙ୍କ ବିବେଚନାରେ ସେ ଭାରତୀୟ ଛାଡ଼ିଛନ୍ତି।

ଚାବାହରରେ ଆତ୍ମହତ୍ୟା ବିସ୍ଫୋରଣ: ୩ ନିହତ

ଚେନ୍ନାଇ, ୭ ଡିସେମ୍ବର (ପି.ଟି.)- ଚାବାହରରେ ଏକ ପୋଲିସ ମୁଖ୍ୟାଳୟରେ ଗୁରୁତ୍ୱପୂର୍ଣ୍ଣ ଆତ୍ମହତ୍ୟାକାରୀ ଆତ୍ମହତ୍ୟା ବିସ୍ଫୋରଣ ଘଟାଇଛି। ଏଥିରେ ୩ ନିହତ ହୋଇଥିବାବେଳେ ୪୦ ଆହତ ହୋଇଛନ୍ତି।

ଭାରତୀୟ ସଭାପତିଙ୍କ କାର୍ଯ୍ୟ ଆକ୍ରମଣ

କୁଚିହାର, ୭ ଡିସେମ୍ବର (ପି.ଟି.)

ପଶ୍ଚିମବଙ୍ଗର ଭାରତୀୟ ସଭାପତି ଦିଲୀପ ଘୋଷଙ୍କ କାର୍ଯ୍ୟକୁ କୁଚିହାର ଜିଲାର ଶାନ୍ତିନଗରୀ ଅଞ୍ଚଳରେ ଗର୍ଭେଷଣା କରାଯାଇଛି।

ସହ ଫେରିଯିବା ଦାବିରେ ଘୋଷାଗଣ ଦେଇଥିଲେ ବୋଲି ଘୋଷ କହିଛନ୍ତି।



ଭାରତୀୟ ସଭାପତି ଦିଲୀପ ଘୋଷଙ୍କୁ ଏହି ଆକ୍ରମଣ ହୋଇଥିବା ବରିଷ୍ଠ ଟିଏମ୍‌ସି ନେତା ରବୀନ୍ଦ୍ରନାଥ ଘୋଷ କହିଛନ୍ତି।

କେନ୍ଦ୍ର ନିଷ୍ପତ୍ତି ବିରୋଧରେ ସିଦ୍ଧିଆଲ ମୁଖ୍ୟଙ୍କ ଆବେଦନ ସୁପ୍ରିମକୋର୍ଟରେ ରାୟ ସଂରକ୍ଷିତ

ଲକ୍ଷ୍ନୋ, ୭ ଡିସେମ୍ବର (ପି.ଟି.)

କେନ୍ଦ୍ର ନିଷ୍ପତ୍ତି ବିରୋଧରେ ସିଦ୍ଧିଆଲ ମୁଖ୍ୟଙ୍କ ଆବେଦନ ସୁପ୍ରିମକୋର୍ଟରେ ରାୟ ସଂରକ୍ଷିତ ରହିଛି।

ରାଜ୍ୟ ସମ୍ପଦ ସମେତ ଅନ୍ୟ ସିଦ୍ଧିଆଲ ଅଧିକାରୀଙ୍କ ବିରୋଧରେ ଆସିଥିବା ଦୁର୍ଗତି ଅଭିଯୋଗର ଏସଆଇଟି ତଦନ୍ତ କୋର୍ଟଙ୍କ ତତ୍ତ୍ୱାବଧାନରେ କରାଯିବ।

ପୁରସ୍କୃତ

ଟେଲିଭିଜନ୍‌ର ଦୃଢ଼ପିଣ୍ଡ ଅସ୍ତ୍ରୋପଚାର

ବାସୀନଗର: ବିଶ୍ୱରେ ପ୍ରଥମ କରି ଏକ ଟେଲିଭିଜନ୍‌ର ଅସ୍ତ୍ରୋପଚାର କରାଯାଇଥିବା ଅନ୍ତର୍ଜାତୀୟ ଖ୍ୟାତିସମ୍ପନ୍ନ ହୁଦ୍‌ରୋଗ ବିଶେଷଜ୍ଞ ଡକ୍ଟର ତେଜସ୍ୱୀ ପଟ୍ଟନାୟକ ଦାବି କରିଛନ୍ତି।

ବାୟୁ ପ୍ରଦୂଷଣ ନେଇଛି ଜୀବନ

ଲୁଆଦିଲ୍ଲା: ଭାରତରେ ପ୍ରତି ୮ ମୁଣ୍ଡ ଘଟଣାରେ ଗୋଟିଏ ବାୟୁ ପ୍ରଦୂଷଣକଳ୍ପନ। ଧୂମପାନ ଅପେକ୍ଷା ପ୍ରଦୂଷଣକଳ୍ପନରୋଗରେ ପଡ଼ି ଅଧିକ ଲୋକ ମୃତ୍ୟୁବରଣ କରନ୍ତି ବୋଲି ଏକ ଆକଳନରୁ ଜଣାପଡ଼ିଛି।

ଭାରତରେ ପ୍ରତି ୮ ମୁଣ୍ଡରେ ଗୋଟିଏ ବାୟୁ ପ୍ରଦୂଷଣକଳ୍ପନ



ମୃତ୍ୟୁବରଣ କରନ୍ତି। ବାୟୁ ପ୍ରଦୂଷଣ ଯୋଗୁ ୨୦୧୭ରେ ଭାରତରେ ମୃତ୍ୟୁବରଣ କରିଛନ୍ତି ୧୨.୪ ଲକ୍ଷରୁ ଅଧିକ ଲୋକ। ଏହି ଲୋକଙ୍କ ବୟସ ୭୦ ବର୍ଷରୁ କମ୍ ଥିବା

ଜଣାପଡ଼ିଛି। ବାୟୁ ପ୍ରଦୂଷଣ ମାତ୍ରା ହ୍ରାସ ପାଇଲେ ପ୍ରତି ଭାରତୀୟଙ୍କ ହାରାହାରି ବୟସ ୧.୭ ବର୍ଷ ବୃଦ୍ଧି ପାଇବ ବୋଲି ଉଚ୍ଚ ଅଧିକାରୀଙ୍କୁ ଜଣାଇବାକୁ ମିଳିଛି।

ଭିତ୍ତିସ୍ଥାପନ ଆରମ୍ଭରେ

ଡିସେମ୍ବର ୭ର ପ୍ରମୁଖ ଘଟଣା

୧୯୮୮ ଡିସେମ୍ବର ୭ରେ ଆମେରିଆରେ ୬.୮ ଗଭୀର ଭୂମିକମ୍ପ ଅନୁଭୂତ ହୋଇଥିଲା, ଯେଉଁଥିରେ ପାଖାପାଖି ୫୦ ହଜାର ଲୋକଙ୍କ ମୃତ୍ୟୁ ହେବା ସହ ଲକ୍ଷାଧିକ ଲୋକ ଆହତ ହୋଇଥିଲେ। ଏହି ପ୍ରକଳ୍ପର ଉତ୍କଳ ଯୋଗୁ ବ୍ୟାପକ କ୍ଷୟକ୍ଷତି ହୋଇଥିଲା।

୧୯୪୭ ଡିସେମ୍ବର ୭ରେ କର୍ଚ୍ଚିଆର ଆନ୍ଦୋଳନ ସହରେ ଥିବା ଉତ୍କଳ ଆନ୍ଦୋଳନରେ ଭୟାବହ ଅଗ୍ନିକାଣ୍ଡ ଘଟି ହୋଇଥିଲା ଯେଉଁଥିରେ ୧୧୯ ଜଣ ଜୀବନ ହରାଇଥିଲେ। ଆମେରିକା ଉପରେ ଏହା ସବୁଠାରୁ ବଡ଼ ଅଗ୍ନିକାଣ୍ଡ।

Table with weather forecast and exchange rates. Includes columns for 'କେମିତି ରହିବ ଆଜିର ପାଗ' and 'ରାଜ୍ୟ-ଆସନ୍ତା'.

ପୁଣେରୁ ଲଢ଼ିବେ ମାଧୁରୀ

Advertisement for Madhuri featuring a woman's portrait and text about her political journey.



ଓଡ଼ିଶା ଆମ ଗୌରବ



ଓଡ଼ିଶା ସରକାର

ରାମେଶ୍ୱରୀ-ମଦୁରାଇ ଅଭିଯୁକ୍ତୀ
ଏମ “ବରିଷ୍ଠ ନାଗରିକ ତୀର୍ଥଯାତ୍ରା ଯୋଜନା” ଟ୍ରେନ୍ ।
ଏଥର ଶୁଭାରମ୍ଭ ହେଉଛି

ସମ୍ବଲପୁର ରୁ

ଓଡ଼ିଶାର ମାନ୍ୟବର ମୁଖ୍ୟମନ୍ତ୍ରୀ

ଶ୍ରୀଯୁକ୍ତ ନବୀନ ପଟ୍ଟନାୟକ

ତୀର୍ଥଯାତ୍ରୀମାନଙ୍କୁ ଶୁଭବିଦାୟ ଜଣାଇବା ସହିତ
ସମସ୍ତଙ୍କ ପାଇଁ ଏକ ମଙ୍ଗଳମୟ ଯାତ୍ରାର
କାମନା କରୁଛନ୍ତି ।



ବରିଷ୍ଠ ନାଗରିକ ତୀର୍ଥଯାତ୍ରା ଯୋଜନା

ସ୍ଥାନ:

ମୁଖ୍ୟମନ୍ତ୍ରୀଙ୍କ ସମ୍ମିଳନୀ ପ୍ରକୋଷ୍ଠ,
ଓଡ଼ିଶା ସଚିବାଳୟ

୭ ଡିସେମ୍ବର ୨୦୧୮
ଅପରାହ୍ନ ୧୨.୧୫ ମିନିଟ୍

ଆଧ୍ୟାତ୍ମିକ ଯାତ୍ରାର ଦିବ୍ୟ ଅନୁଭବ



Website: www.odishatourism.gov.in / www.visitodisha.org | E-mail: oritour@gmail.com

@Naveen_Odisha CMO, Odisha @CMO_Odisha CMO, Odisha

Table with 4 columns: S.N., Name, Address, and Phone Number. Contains various entries for individuals and organizations.

Table with 4 columns: S.N., Name, Address, and Phone Number. Continuation of the list from the previous table.

Table with 4 columns: S.N., Name, Address, and Phone Number. Continuation of the list.

Table with 4 columns: S.N., Name, Address, and Phone Number. Continuation of the list.

Table with 4 columns: S.N., Name, Address, and Phone Number. Continuation of the list.

Table with 4 columns: S.N., Name, Address, and Phone Number. Continuation of the list.

Table with 4 columns: S.N., Name, Address, and Phone Number. Continuation of the list.

Table with 4 columns: S.N., Name, Address, and Phone Number. Continuation of the list.

Table with 4 columns: S.N., Name, Address, and Phone Number. Continuation of the list.

Table with 4 columns: S.N., Name, Address, and Phone Number. Continuation of the list.

Table with 4 columns: S.N., Name, Address, and Phone Number. Continuation of the list.

Table with 4 columns: S.N., Name, Address, and Phone Number. Continuation of the list.

ସ୍ଵାଭିମାନ ଅଞ୍ଚଳରେ ମାଓବାଦୀ ଯୋଗୁଁ ନିର୍ବାଚନ ବର୍ଜନ କର, ସଙ୍ଗଠନରେ ସାମିଲ ହୁଅ

ମାଲକାନଗିରି, ୨୧୨ (ଡି.ଏନ.ଏ.)



ପିଏଲଜିଏ (ପିପୁଲ ଲିବରେଶନ ରେଭିଲ୍ମ ଆର୍ମି) ସମ୍ପ୍ରଦାୟ ପଞ୍ଚମ ଦିନରେ ସ୍ଵାଭିମାନ ଅଞ୍ଚଳରେ ମାଓବାଦୀମାନେ ପୋଷ୍ଟର ଲଗାଇ ନିର୍ବାଚନ ବର୍ଜନ କର, ସଙ୍ଗଠନରେ ସାମିଲ ହେବାକୁ ଅଞ୍ଚଳବାସୀଙ୍କୁ ଆହ୍ଵାନ କରିଛନ୍ତି ।

ମାଓବାଦୀମାନେ ଲଗାଇଥିବା ପୋଷ୍ଟର ବ୍ୟତୀତ, ପିଏଲଜିଏର ଆଦିବାସୀଙ୍କୁ ଶାନ୍ତି ସୂଚକ ଭାବେ ଲଗାଇବାକୁ ଅନୁରୋଧ କରିବା, ପିଏଲଜିଏର ଆଦିବାସୀଙ୍କୁ ଶାନ୍ତି ସୂଚକ ଭାବେ ଲଗାଇବାକୁ ଅନୁରୋଧ କରିବା, ପିଏଲଜିଏର ଆଦିବାସୀଙ୍କୁ ଶାନ୍ତି ସୂଚକ ଭାବେ ଲଗାଇବାକୁ ଅନୁରୋଧ କରିବା...

ରେଙ୍ଗାଳି ନଦୀବନ୍ଧ କ୍ଷତିଗ୍ରସ୍ତଙ୍କ ଆନ୍ଦୋଳନ ୧୨ ଦିନିଆ ପାଲଲହଡ଼ା ବନ୍ଦ

ପାଲଲହଡ଼ା, ୨୧୨ (ଡି.ଏନ.ଏ.)



ଅନୁଗୋଳ ଜିଲ୍ଲା ରେଙ୍ଗାଳି ନଦୀବନ୍ଧ କ୍ଷତିଗ୍ରସ୍ତ ଏବଂ ବିପ୍ଳାବିତଙ୍କୁ ବନ୍ଧିତ ହାରରେ କ୍ଷତିଗ୍ରସ୍ତ ଓ ପାଲଲହଡ଼ା, ଖମ୍ବାର ଡାକ୍ତରଖାନାରେ ଡାକ୍ତର ପଦ୍ମା ପୁରୀଙ୍କ ଦାବିରେ ଆନ୍ଦୋଳନକୁ ଉତ୍ସାହଜ୍ଵାଳିତ ରେଙ୍ଗାଳି ନଦୀବନ୍ଧ କ୍ଷତିଗ୍ରସ୍ତ ପ୍ରଜା । ଏ ନେଇ କ୍ଷତିଗ୍ରସ୍ତ ପ୍ରଜା ଏବଂ ଓ ନାଗରିକ ପୁରୁଷା ମଞ୍ଚ ପକ୍ଷରୁ ଗୁରୁବାର ୧୨ ଦିନିଆ ପାଲଲହଡ଼ା ବନ୍ଦ ଡାକିବା ଦିଆଯାଇଥିଲା ।

ଆନ୍ଦୋଳନକାରୀମାନେ ରାତ୍ରୀ ଅବରୋଧ କରି ବନ୍ଧିଛନ୍ତି । ଏହି ବନ୍ଦକୁ ବଣିକ ଏବଂ ସମର୍ଥନ କରୁଥିବାରୁ ଅଞ୍ଚଳର ସମସ୍ତ ଦୋକାନ ବନ୍ଦର ବନ୍ଦ ରହିଥିଲା । କ୍ଷତିଗ୍ରସ୍ତ ପ୍ରଜା ଏବଂ ସଭାପତି ସତ୍ୟଜିତ କୁମାର ଦେବୁରାଙ୍କ କହିବା ପ୍ରବାଚକ, ୧୯୮୩ରେ ସରକାର କ୍ଷତିଗ୍ରସ୍ତ ଲୋକଙ୍କ ଗାରା ବେଇ ଯାଇଥିବା ୪୯ ଏବଂ ୧୪୯ ନଂ. ଜାତୀୟ ରାଜପଥ ଅବରୋଧ କରିଥିଲେ ।

ବିଜେଡିରେ ମିଶିଲେ ଚକ୍ରଧର

ଭୁବନେଶ୍ଵର, ୨୧୨ (ଭୁବନେଶ୍ଵର)

ସେହିପରି ବିଜେଡିରେ ସାମିଲ ହେବା ପରେ ଚକ୍ରଧର କହିଛନ୍ତି, ମୁଁ ଦୀର୍ଘଦିନ ଧରି ବିଜୁବାବୁଙ୍କ ସହିତ ଥିଲି । ବିଜୁବାବୁଙ୍କ ଦଳ ଉତ୍କଳ କଂଗ୍ରେସରେ ରହି ୧୯୭୪ରେ ବିଧାନସଭା ଭାବେ ନିର୍ବାଚିତ ହୋଇଥିଲି । ତେଣୁ ଆଜି ବିଜେଡିରେ ଯୋଗଦେବା ତାଙ୍କ ପାଇଁ ଘରବାହୁଡ଼ା ସଦୃଶ । ବିଜେଡି ଯେଉଁ ଦାୟିତ୍ଵ ଦେବ ତାହାକୁ ସେ ନିଷ୍ଠାର ସହିତ କରିବେ ବୋଲି ସେ କହିଛନ୍ତି । ଅନ୍ୟମାନଙ୍କ ମଧ୍ୟରେ ଗଞ୍ଜାମ ଜିଲ୍ଲା ସଭାପତି ପ୍ରଦୀପ କୁମାର ପାଣିଗ୍ରାହୀ, ଏମ୍ପି ସିଦ୍ଧାନ୍ତ ମହାପାତ୍ର, ପୂର୍ବତନ ଏମ୍ପି ଚନ୍ଦ୍ରଶେଖର ସାହୁ, ଭୁବିନ୍ଦ୍ର ସିଂ, ଗଜପତି ଜିଲ୍ଲା ବିଜେଡି ସଭାପତି ପ୍ରଦୀପ ନାୟକ, ପୂର୍ବତନ ଉପବାଚସ୍ପତି ରାମଚନ୍ଦ୍ର ପଣ୍ଡା, ସ୍ଵଚ୍ଛ ବିକାଶ ପ୍ରିକ୍ଷିତ ନିର୍ବାଚନମଣ୍ଡଳରେ ଦଳର ଶକ୍ତି ବୃଦ୍ଧିରେ ସହାୟକ ହେବ ।

GOVERNMENT OF ODISHA OFFICE OF THE CHIEF CONSTRUCTION ENGINEER, ANANDAPUR BARRAGE PROJECT, SALAPADA (E-mail id: cceabp-eicwr.od@nic.in/ loabp-eicwr.od@nic.in) E-procurement Notice No. CCEABP-13 of 2018-19

ଓଡ଼ିଶା ବିଦ୍ୟୁତ୍ ଶକ୍ତି ସଂଚାରଣ ନିଗମ ଲି.ଡି. ODISHA POWER TRANSMISSION CORPORATION LIMITED (A Government of Odisha Undertaking) O/o Sr. General Manager Construction, Zone-II, Sambalpur

ଓଡ଼ିଶା ବିଦ୍ୟୁତ୍ ଶକ୍ତି ସଂଚାରଣ ନିଗମ ଲି.ଡି. ODISHA POWER TRANSMISSION CORPORATION LIMITED (A Government of Odisha Undertaking) O/o Sr. General Manager Construction, Zone-II, Sambalpur

ଓଡ଼ିଶା ବିଦ୍ୟୁତ୍ ଶକ୍ତି ସଂଚାରଣ ନିଗମ ଲି.ଡି. ODISHA POWER TRANSMISSION CORPORATION LIMITED (A Government of Odisha Undertaking) O/o Sr. General Manager Construction, Zone-II, Sambalpur


ଓଡ଼ିଶା ବିଦ୍ୟୁତ୍ ଶକ୍ତି ସଂଚାରଣ ନିଗମ ଲି.ଡି. ODISHA POWER TRANSMISSION CORPORATION LIMITED (A Government of Odisha Undertaking) O/o Sr. General Manager Construction, Zone-II, Sambalpur

ODISHA LIVESTOCK RESOURCES DEVELOPMENT SOCIETY OBPI Campus, Siripur, Bhubaneswar-751003, Tel No: 0674-2397985, email: oldsahd@gmail.com, Website: www.olrds.com

OFFICE OF THE CHIEF DISTRICT MEDICAL & PUBLIC HEALTH OFFICER, PURI Order No. 7607 (2) / Veh., Puri the 28th November, 2018 TENDER CALL NOTICE FOR PURCHASE OF NEW HEARSE VAN

ZILLA SWASTHYA SAMITI, KEONJHAR CHIEF DISTRICT MEDICAL & PUBLIC HEALTH OFFICER, KEONJHAR (DISTRICT PROGRAMME MANAGEMENT UNIT, NHM) TENDER CALL NOTICE

COUNCIL OF HIGHER SECONDARY EDUCATION, ODISHA C-2, PRAJNAPITHA, SAMANTAPUR, BHUBANESWAR-13 QUOTATION CALL NOTICE



Exam Mate



Mock Test Paper for Std X, XII CBSE Board, IIT - JEE Main & Advanced.

FOR ANSWERS VISIT : www.dharitri.com

MOCK TEST PAPER # 1 CLASS-X (MATHEMATICS)

Time Allowed : 3 hours

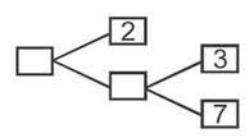
Maximum Marks: 80

GENERAL INSTRUCTIONS

- i. All questions are compulsory. There are 30 questions in all.
- ii. This question paper has four sections : Section A, Section B, Section C and Section D.
- iii. Section A contains 6 questions of one mark each, Section B contains 6 questions of two marks each, Section C contains 10 questions of three marks each, Section D contains 8 questions of four marks each.
- iv. There is no overall choice. However, an internal choice has been provided in four questions of three marks each and three questions of four marks each. You have to attempt only one of the choices in such questions.
- v. Use of calculators is not permitted.

SECTION-A

1. Complete the missing entries in the following factor tree.



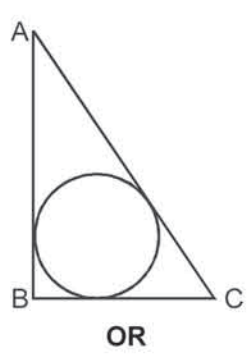
2. Find the ratio in which the line segment joining $P(x_1, y_1)$ and $Q(x_2, y_2)$ is divided by x-axis.
3. Express $\sin 81^\circ + \tan 81^\circ$ in terms of trigonometric ratios of angle between 0° and 45° .
4. Find the value of θ in each $2 \sin 2\theta = \sqrt{3}$
5. What is the probability that a number selected from the numbers 1, 2, 3, ..., 15 is a multiple of 4 ?
6. If the mean of first n natural number is 15, then find n.

SECTION-B

7. Prove that there is no natural number n for which 4^n ends with the digit zero.
8. If α and β are the zeros of the polynomial $f(x) = x^2 - 5x + k$ such that $\alpha - \beta = 1$, find the value of k.
9. Find a point on the y-axis which is equidistant from the points $A(6, 5)$ and $B(-4, 3)$.
10. If $\sin(A + B) = 1$ and $\cos(A - B) = \frac{\sqrt{3}}{2}$, $0^\circ < A + B \leq 90^\circ$, $A > B$ then find A and B
11. A jar contains 54 marbles each of which is blue, green or white. The probability of selecting a blue marble at random from the jar is $\frac{1}{3}$, and the probability of selecting a green marble at random is $\frac{4}{9}$. How many white marbles does the jar contain ?
12. The mean of 1, 3, 4, 5, 7, 4 is m. The numbers 3, 2, 2, 4, 3, p have mean $m - 1$ and median q. Then find $p + q$.

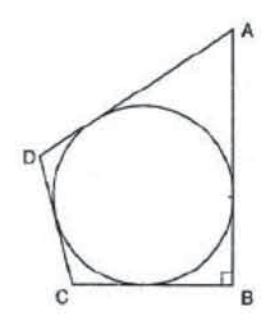
SECTION-C

13. Prove that $\sqrt{2} + \sqrt{5}$ is irrational.
14. Find the values of p and q for which the following system of equations has infinite number of solutions:
 $2x + 3y = 7$
 $(p + q)x + (2p - q)y = 21$
15. Find four numbers in A.P. whose sum is 20 and the sum of whose squares is 120.
16. If the point (x, y) is equidistant from the points $(a + b, b - a)$ and $(a - b, a + b)$, prove that $bx = ay$.
17. ABC is a right triangle right angled at B such that $BC = 6$ cm and $AB = 8$ cm. Find the radius of its incircle.

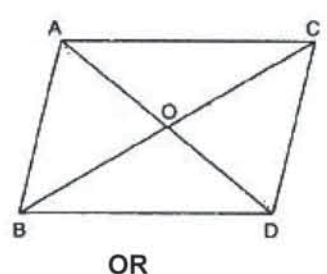


OR

In figure, a circle is inscribed in a quadrilateral ABCD in which $\angle B = 90^\circ$. If $AD = 23$, $AB = 29$ cm and $DS = 5$ cm, find the radius r of the circle.

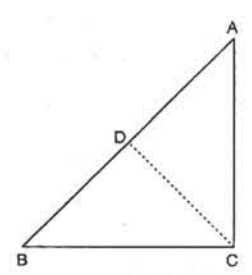


18. In figure, $\triangle ABC$ and $\triangle DBC$ are on the same base BC. If AD and BC intersect at O, prove that $\frac{\text{Area}(\triangle ABC)}{\text{Area}(\triangle DBC)} = \frac{AO}{DO}$

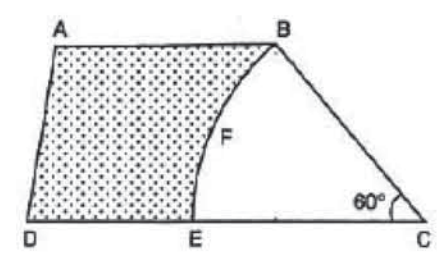


OR

ABC is a right triangle right angled at C and $AC = \sqrt{3} BC$. Prove that $\angle ABC = 60^\circ$.



19. Draw a circle of radius 6 cm. Draw a tangent to this circle making an angle of 30° with a line passing through the centre.
20. Prove that $\frac{1}{\text{cosec} A - \cot A} - \frac{1}{\sin A} = \frac{1}{\sin A} - \frac{1}{\text{cosec} A + \cot A}$
21. In figure, ABCD is a trapezium with $AB \parallel CD$ and $\angle BCD = 60^\circ$. If BFEC is a sector of a circle with centre C and $AB = BC = 7$ cm and $DE = 4$ cm, then find the area of the shaded region (Use $\pi = \frac{22}{7}$ and $\sqrt{3} = 1.732$)



22. A vessel is in the form of a hemispherical bowl mounted by a hollow cylinder. The diameter of the sphere is 14 cm and the total height of the vessel is 13 cm. Find its capacity (Take $\pi = \frac{22}{7}$)

SECTION-D

23. A shopkeeper buys a number of books for Rs. 80. If he had bought 4 more books for the same amount, each book would have cost Rs. 1 less. How many books did he buy ?
24. The sum of the first p, q, r terms of an A.P. are a, b, c respectively. Show that $\frac{a}{p}(q-r) + \frac{b}{q}(r-p) + \frac{c}{r}(p-q) = 0$
25. The sum of a two-digit number and the number obtained by reversing the order of its digits is 165. If the digits differ by 3, find the number.
26. D and E are points on the sides AB and AC respectively of a $\triangle ABC$ such that $DE \parallel BC$ and divides $\triangle ABC$ into two parts, equal in area, find BD/AB .

OR

The perpendicular AD on the base BC of a $\triangle ABC$ intersects BC at D so that $DB = 3CD$. Prove that $2AB^2 = 2AC^2 + BC^2$.

27. If $\sec \theta = x + \frac{1}{4x}$, prove that $\sec \theta + \tan \theta = 2x$ or $\frac{1}{2x}$
28. A man on a cliff observe a boat at an angle of depression of 30° which is approaching the shore to the point immediately beneath the observer with a uniform speed. Six minutes later, the angle of depression of the boat is found to be 60° . Find the time taken by the boat to reach the shore.
29. Water flows at the rate of 10 meters per minute through a cylindrical pipe 5 mm in diameter. How long would it take to fill a conical vessel whose diameter at the base is 40 cm and depth 24 cm?

OR

The interior of a building is in the form of cylinder of a diameter 4.3 m and height 3.8 m, surmounted by a cone whose vertical angle is a right angle. Find the area of the surface and the volume of the building. (Take $\pi = 3.14$)

30. If the median of the following frequencies distribution is 46, find the missing frequencies.

Class	10-20	20-30	30-40	40-50	50-60	60-70	70-80	Total
Frequency	12	30	?	65	?	25	18	229

For Answers visit: www.dharitri.com

'ଗୁଡ଼ ନ୍ୟୁଜ ଇଣ୍ଡିଆ ଡ୍ରିମ୍ ସେଣ୍ଟର' ଜଳେଶ୍ଵର ଶାଖା ଉପରେ ଚଢ଼ାଉ

ଜଳେଶ୍ଵର, ୬/୧୨(ଡି.ଏନ.ଏ.)



ବାଲେଶ୍ଵର ଜିଲ୍ଲା ଜଳେଶ୍ଵର ବ୍ଲକ୍ ରାଜବଣିଆ ଥାନା ଖୁଆଡ଼ ପଞ୍ଚାୟତ ଅନ୍ତର୍ଗତ ପୁରୁଣାପାଣି ଅଞ୍ଚଳର ମହୁଡୁମା ମଞ୍ଚପୁର ଗ୍ରାମରେ ଥିବା ଗୁଡ଼ ନ୍ୟୁଜ ଇଣ୍ଡିଆ ଡ୍ରିମ୍ ସେଣ୍ଟର, ଜଳେଶ୍ଵର ଶାଖାରେ ରୁଧିରା ଜିଲ୍ଲା ପ୍ରଶାସନ ତରଫରୁ ଚଢ଼ାଉ କରାଯାଇଛି। ହାପି ଆଣ୍ଡ ହୋଲି ବିଦ୍ୟାଳୟ ସହିତ ମିଳିତ ଭାବେ ଡ୍ରିମ୍ ସେଣ୍ଟର ହୋମ ଦ୍ଵାରା ପରିଚାଳିତ ହେଉଥିବା ଏହି ଶାଖାରେ ସମୁଦାୟ ୧୯୦ ଜଣ ଅନୁଷ୍ଠାନିକ ରହୁଥିବା ଜଣାପଡ଼ିଛି। ସେମାନଙ୍କ ମଧ୍ୟରେ ୮୫ ଜଣ ଝିଅ, ୧୧୫ ଜଣ ପୁଅ ଓ ୪୦ ଜଣ କୁଷ୍ଠରୋଗୀ ଅଛନ୍ତି। ୨୦୧୧ ମସିହାରୁ ପରିଚାଳିତ ହେଉଥିବା ଏହି ସେଣ୍ଟର ହୋମରେ ବିଦ୍ୟାଳୟରେ ୧ମ ରୁ ୮ମ ଶ୍ରେଣୀ ଯାଏ

ମହୁଡୁମା ମଞ୍ଚପୁର ଗ୍ରାମରେ ଥିବା ଗୁଡ଼ ନ୍ୟୁଜ ଇଣ୍ଡିଆ ଡ୍ରିମ୍ ସେଣ୍ଟର। ଛାତ୍ରାଛାତ୍ରୀମାନେ ଅନୁଷ୍ଠାନିକ ଭାବେ ରହି ପାଠ ପଢ଼ୁଛନ୍ତି। ଏହି ସେଣ୍ଟର ହୋମର ଦାୟିତ୍ଵରେ ଥିବା ସ୍ଵର୍ଣ୍ଣପ୍ରଭା ବାରିକ ଜିଲ୍ଲା ପ୍ରଶାସନର ଚଢ଼ାଉ ଡିମ୍ ସମ୍ପୂର୍ଣ୍ଣରେ ବୟାନ ଦେଇଛନ୍ତି ଯେ, ଏଠାରେ ଗରିବ, ଆଦିବାସୀ ଓ କୁଷ୍ଠରୋଗୀ ପରିବାରର ପିଲାମାନଙ୍କୁ ମାଗଣାରେ ପାଠ ପଢ଼ାଯିବା ସହିତ ସମସ୍ତ ପ୍ରକାର ସୁବିଧା ସୁଯୋଗ ଯୋଗାଇ ଦିଆଯାଇଥାଏ। କୌଣସି ଧର୍ମ ସମ୍ପର୍କରେ ଶିକ୍ଷା ଦିଆଯାଏ ନାହିଁ କିମ୍ବା ଧର୍ମାନ୍ତରାକରଣ ହୁଏନାହିଁ। ଉକ୍ତ ଚଢ଼ାଉ ଡିମ୍ରେ ସହକାରୀ ଜିଲ୍ଲାପାଳ ତଥା ଭାରପ୍ରାପ୍ତ ଶିଶୁ ସୁରକ୍ଷା

ଛାତ୍ରୀଙ୍କୁ ଅସଦାଚରଣ ଅଭିଯୋଗ

ଜଳେଶ୍ଵର, ୬/୧୨(ଡି.ଏନ.ଏ.)

ବାଲେଶ୍ଵର ଜିଲ୍ଲା ଜଳେଶ୍ଵର ଥାନା ଅଞ୍ଚଳର ଜଣେ ଅନୁଷ୍ଠିତ ଜାତିର ଛାତ୍ରୀଙ୍କୁ ଜଣେ ଯୁବକ ରାସ୍ତାରେ ଅନିଚ୍ଛା ଚଣାଓଟରା କରିବା ସହ ଅସଦାଚରଣ କରିଥିଲେ। ଫଳରେ ଛାତ୍ରୀଜଣକ ତଳେ ପଡ଼ିଯାଇ ଆହତ ହୋଇଥିବା ଜଣାପଡ଼ିଛି। ଏନେଇ ଜଳେଶ୍ଵର ଥାନାରେ ଛାତ୍ରୀ ଜଣକ ଲିଖିତ ଅଭିଯୋଗ କରିଛନ୍ତି। ଅଭିଯୋଗକୁ ଭିତ୍ତି କରି ପୋଲିସ୍ ଏଫ୍ଟି/ଏସ୍‌ସି ମାମଲା (ନଂ.୩୪୮/୧୮) ରୁଜୁ କରି ଘଟଣାର ତଦନ୍ତ ଆରମ୍ଭ କରିଛି।

ତାଳପଦାରେ ସମିତିସଭା ଉପନିର୍ବାଚନ ୮୧.୪୬ ପ୍ରତିଶତ ମତଦାନ

ବାହାଳଗା, ୬/୧୨(ଡି.ଏନ.ଏ.)

ବାହାଳଗା ବ୍ଲକ୍ ତାଳପଦା ପଞ୍ଚାୟତ ସମିତିସଭା ନିମନ୍ତେ ଅନୁଷ୍ଠିତ ଉପନିର୍ବାଚନ ଶାନ୍ତିଶୃଙ୍ଖଳାରେ ଶେଷ ହୋଇଛି। ୮୧.୪୬ ପ୍ରତିଶତ ମତଦାନ ହୋଇଥିବା ଜଣାପଡ଼ିଛି। ତାଳପଦା ପଞ୍ଚାୟତର ୧୧ଟି ଖାର୍ଡରେ ୧୧ଟି ବୁଥରେ ମତଦାନ କରାଯାଇଥିଲା। ତେବେ ପଞ୍ଚାୟତର ୨୭ଶହ ୮୪ ଜଣ ଭୋଟର ଥିବା ବେଳେ ୨୨ଶହ ୭୩ଜଣ ମତଦାନ ସାଦ୍ୟସ୍ତ କରିଛନ୍ତି। ପୂର୍ବରୁ ୮୧ ଶହ ମତଦାନ ଆରମ୍ଭ ହୋଇଥିଲା। ଭୋଟରମାନେ ଲମ୍ବା ଧାଡ଼ି ଲଗାଇ ମତ ସାଦ୍ୟସ୍ତ କରିଥିଲେ। ମଧ୍ୟାହ୍ନ ୧୨ଟାରେ ଶେଷ ହୋଇଥିଲା। ଶୁକ୍ରବାର ଗଣତି କାର୍ଯ୍ୟକ୍ରମ ବ୍ଲକ୍ ପରିସରରେ ଅନୁଷ୍ଠିତ ହେବ। ସେହିପରି ରେଭିନ୍ ବ୍ଲକ୍ ଶ୍ରୀଜଙ୍ଗ ପଞ୍ଚାୟତର ୭ନମ୍ବର ଖାର୍ଡରେ ଉପନିର୍ବାଚନ ପାଇଁ ଉପନିର୍ବାଚନ ହୋଇଥିଲା। ଏଥିରେ ୩୨୫ଜଣ ଭୋଟରଙ୍କ ମଧ୍ୟରୁ ୨୨୫ ଜଣ ଭୋଟର ମତଦାନ କରିଥିଲେ। ଶୁକ୍ରବାର ରେଭିନ୍ ବ୍ଲକ୍ ପରିସରରେ ଭୋଟ ଗଣତି ହେବ।

ଧରତ୍ରୀ ଜନ୍ମଦିନ ବିଶେଷାଙ୍କ ହକି ଓଡ଼ିଶାରେ ବିଶ୍ଵ

ଧରତ୍ରୀର ୪୫ତମ ଜନ୍ମଦିନ ଅବସରରେ ପ୍ରକାଶ ପାଇଛି ଆକର୍ଷଣୀୟ ବିଶେଷାଙ୍କ 'ହକି ଓଡ଼ିଶାରେ ବିଶ୍ଵ'। ଭୁବନେଶ୍ଵରର କଳିଙ୍ଗ ଷ୍ଟାଡ଼ିୟମରେ ଆୟୋଜିତ ହେଉଛି ଚତୁର୍ଦ୍ଦଶ ପୁସ୍ତକ ହକି ବିଶ୍ଵକାନ୍ଦ। ଏହି ପ୍ରୋକ୍ସାପଟରେ ଓଡ଼ିଶା ହକିର ଅନୁକୃତ୍ତିଗାଳ ପୁରସ୍କାର ତଥା ହକି ସମ୍ପର୍କିତ ବିଭିନ୍ନ ପ୍ରସଙ୍ଗକୁ ନେଇ ଆଲୋଚନା ସହ ଏଥିରେ ରହିଛି ୨୦୧୯: ଦି'ହାସନ ପାଇଁ ସଜବାଜ, ହାର୍ଡ଼ଫ୍ରିକ୍ ଟୁହେଁ ସ୍ମାର୍ଟଫ୍ରିକ୍, #ମି ରୁ: ପୁରୁଷ-ଆଧିପତ୍ୟରେ ଚଢ଼କ, ପୁଷ୍ଟିକ୍ ଆବର୍ତ୍ତନା : ପରିଚାଳନା ଓ ବିକଳ, ଶର୍ ଫିଲ୍ମ: ଅଳ୍ପ ଅବଧି, ବେଶୀ ବାଣୀ, ପରଦେଶରେ ଦେଶୀ ଫ୍ୟାଶନ୍। ବିଶିଷ୍ଟ ସାହିତ୍ୟିକା ଡ. ପ୍ରତିଭା ରାୟଙ୍କ ସହ ସାକ୍ଷାତକାର ସମେତ ପ୍ରକାଶ ନବୀନଙ୍କ ଗଳ୍ପ, ପ୍ରବନ୍ଧ, କବିତା ସମ୍ଭାରରେ ଏହି ସଂଖ୍ୟା ସମୃଦ୍ଧ।



ଧରତ୍ରୀ ବିତରକଙ୍କ ପାଖରେ ଏହି ବିଶେଷାଙ୍କ ଉପଲବ୍ଧ

ମୂଲ୍ୟ: ୮୦
 ଯୋଗାଯୋଗ:
 ବାଲେଶ୍ଵର, କେନ୍ଦ୍ରଝର, ମୟୂରଭଞ୍ଜ: ଆଲୋକ କାର୍ଯ୍ୟାଳୟ (୯୯୩୭୭୪୭୭/୮୨୪୯୫୮୪୦୧୦)
 ଭଦ୍ରକ: ଦେବରାଜ ସାମଲ (୯୯୩୮୧୩୭୭୪୭)
 ଦୂରଭାଷ: ୦୬୭୪-୨୫୮୦୧୦୧/୨୫୪୯୩୦୨

Roop Mantra
 Roop Mantra Ayurvedic Cream
 Available in : 15g/30g/60g pack
 Also Available : Ayurvedic Capsules, Ayurvedic Face Wash & Ayurvedic Soap

ଆୟୁର୍ବେଦିକ ଗୁଣସୁକ୍ତ ରୂପ ମନ୍ତ୍ରୀ
 ଆୟୁର୍ବେଦିକ ଫେସ୍ କ୍ରିମ୍ ସମ୍ପୂର୍ଣ୍ଣ ପରିବାର ପାଇଁ
 ଏକ ଗୁଣକାରୀ ଉପାୟ
 ଯାହାଦ୍ଵାରା ଫେସ୍ ରହେ ଗ୍ରୀଜର୍ ଏବଂ ଝିନ୍ ମଧ୍ୟ ରୂପ ଚାଲେ

ପ୍ରକୃତିର ଘର୍ଷ ଆୟୁର୍ବେଦର ବିଶ୍ଵାସ

24x7 Helpline 0171-3055111
 www.roopmantra.com
 Available at all medical & general stores

TOYOTA Remember December

Toyota Kirloskar to hike price by 4% from Jan. 1
 BENGALURU
 Toyota Kirloskar Motor is considering to increase the price of its products by up to 4% from January 1, 2019
 Source: The Hindu

TOYOTA YARIS Benefits up to **₹1,00,000***

INNOVA CRYSTA Benefits up to **₹45,000***

THE OFFERS WILL END IN DECEMBER. THE TOYOTA ASSURANCE WON'T.

SHORT TERM GAINS Offers Like Never Before

LONG TERM PEACE OF MIND Low Cost of Maintenance* | Long Lasting Durability* | Reliable and Quick Service* | High Resale Value*

ETIOS CROSS Benefits up to **₹38,000***

FORTUNER Benefits up to **₹40,000***

ETIOS Liva Benefits up to **₹23,000***

PLATINUM ETIOS Benefits up to **₹38,000***

Espirit Toyota

Angul & Cuttack Ph: 7873044152 | **Bhubaneswar** Ph: 7873045451 | **Rourkela** Ph: 0661-6535251, 7873044167, 7873044160 | **Sambalpur** Ph: 7873044132, 7873044557

